

Схема движения по трассе 1.

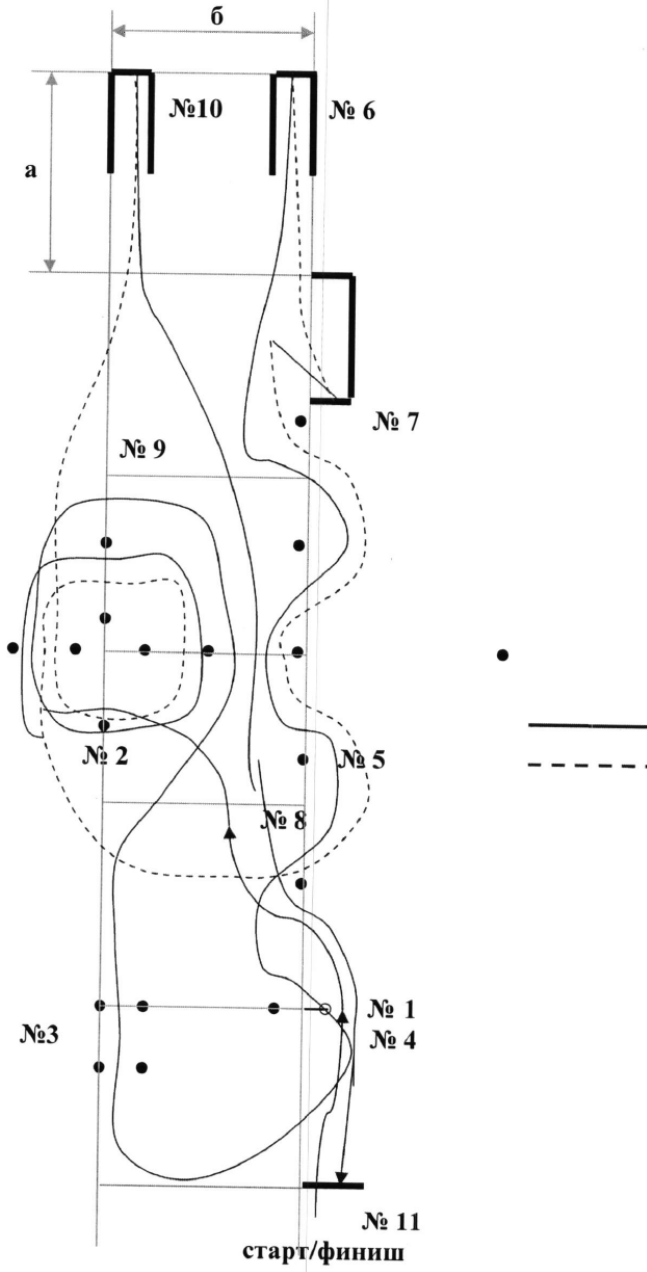
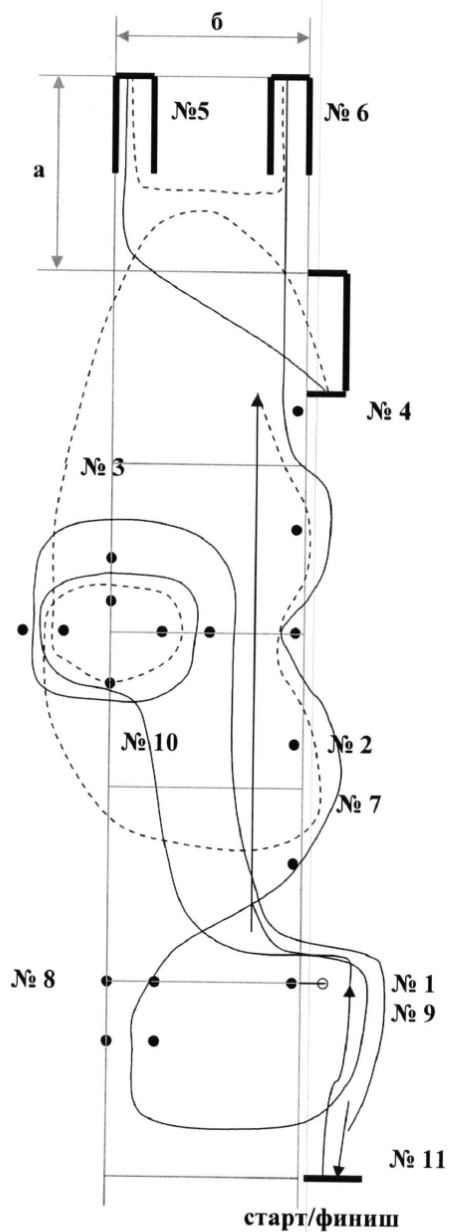


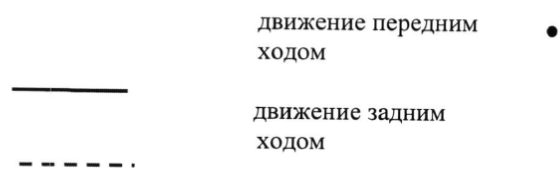
Схема движения по трассе 2.



Очередность выполнения упражнений:

1. Эстафета (снять кольцо)
2. Змейка задним ходом
3. Крест задним ходом
4. Стоянка
5. Бокс передним ходом
6. Бокс задним ходом
7. Змейка передним ходом
8. Габаритный коридор
9. Эстафета (надеть кольцо)
10. Крест передним ходом
11. Стоп-линия

Условные обозначения:



Размеры трассы:

$a = 10 \text{ м}$

$b = 10 \text{ м}$

т.е. размеры всех шести ячеек равны 10 x10 метров